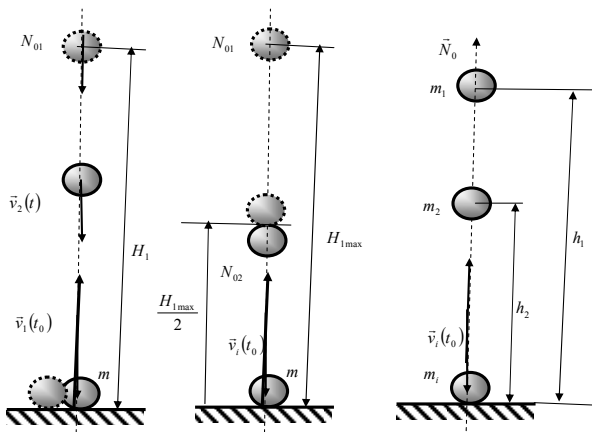


ПИСМЕНИ ДЕО ИСПИТА ИЗ ПРЕДМЕТА
МЕХАНИКА III - ДИНАМИКА
МЕХАНИКА III - DINAMIKA

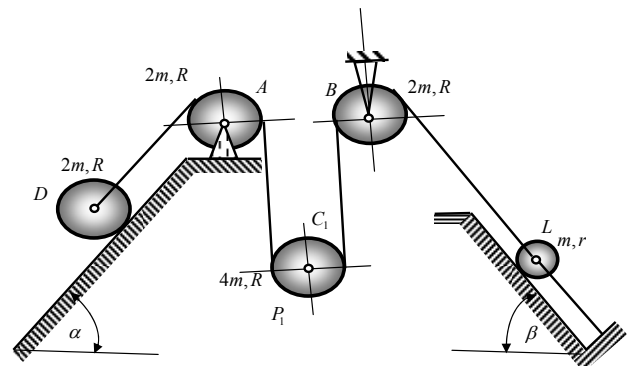
PRVI ZADATAK. *a** Materijalna tačka mase m_1 , izbačena je, u polju Zemljine teže, iz tačke O početnom brzinom v_{01} vertikalno uvis. U trenutku kada je ona dostigla svoju maksimalnu visinu penjanja H_1 , iz njene polazne tačke O izbačena je druga materijalna tačka mase m_2 brzinom v_{02} . Odrediti njenu početnu brzinu lansiranja (izbačaja) pa da ona u istom trenutku udari o tlo kada i prethodno lansirana materijalna tačka? (Slika 1).

*b** Odrediti odnos početnih brzina jednovremenog lansiranja u vertikalnom pravcu tih materijalnih tačaka da bi se one jednovremeno našle na polovini maksimalne visine koju dostigne brže krećući se materijalna tačka. Da li postoji samo jedno rešenje?

*c** Ako su materijalne tačke od različitih materijala, te se puste, bez početnih brzina i sa iste visine H da udare u pod, na osnovu njihovog odskoka h_1 i h_2 odrediti njihove dolazne i odlazne brzine sudara sa podom, kao i odgovarajuće koeficijente sudara i odnos tih koeficijenata sudara.,



Slika 1.



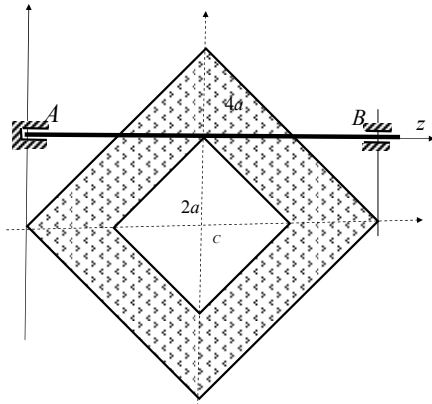
Slika 2.

DRUGI ZADATAK. Za *materijalni sistem* prikazan na slici 2. na kojoj su naznačeni *kinematičko-kinetički parametri* koturova u obliku homogenih tankih diskova, uz pretpostavku da je uže nerastegljivo, odrediti:

- a** Broj stepeni slobode kretanja sistema i načiniti izbor generalisanih koordinata sistema;
- b** Sve koordinate položaja i konfiguracije sistema, kao i ugaone brzine koturova izraziti pomoću izabраних generalisanih koordinata sistema;
- c** Izraze za *kinetičku i potencijalnu energiju sistema*; Da li se energija datog sistema menja u toku vremena i toku kretanja sistema? Napisati integral energije sistema; Da li je sistem konzervativan? Kolika je snaga rada sila koje dejstvuju na sistem?
- d** Diferencijalne jednačine sistema pomoću generalisanih koordinata i Lagrange-ovih jednačina druge vrste. Koliki najmanji broj diferencijalnih jednačina kretanja sistema?
- e** Ugaonu brzinu i brzinu centra masa diska L .

TREĆI ZADATAK. Na slici 3. prikazana je homogena tanka pločica, mase m sa paralelnim konturama oblika kvadrata, spojašnje dijagonala $4a$ i unutrašnje $2a$, sa zajedničkim težištem, koja je učvršćena za lakom vratilu, tako da osa vratila prolazi kroz jedno teme unutrašnje konture, a paralelno dijagonali. Vratilo je sa ležištima, nepokretnim u A i cilindričnim u B , na međusobnom rastojanju $4a$. Odrediti:

- a* koordinate centra udara pločice i objasni osobine centra udara;
- b* Period oscilovanja pločice oko ose vratila, kada je ta osa horizontalna.



Slika 3.

Напомена: Писмени део испита траје 4 сата. Дозвољено је коришћење само штампане литературе (уџбеник и таблице). Студенти који имају одложен усмени део испита дужни су да то видно означи на корицама писменог задатка, заједно са бројем поена, као и подацима о испитном року у коме су стекли то право. Такође, **НАПОМИЊЕМО** да је студент који има одложен усмени део испита **обавезан да ради писмени део испита и у испитном року у коме ће полагати усмени део испита** и да се труди да исти што боље уради.

Писмени део испита је елиминаторан. Студент остварује право на полагање усменог дела испита и позитивну оцену писменог дела испита ако оствари најмање 18 поена од укупно 30 поена (три задатка по десет поена) или ако тачно реши и уради најмање два цела испитна задатка. Студент који оствари право «условно позван на усмени део испита» **као доквалификацију** за остварење права на усмени део испита ради један теоријски задатак у трајању од једног часа и без коришћења литературе.

Резултати писменог дела испита биће саопштени у писменом облику на огласној табли факултета до 12 часова. један дан по одржаном писменом делу испита, ако дежурни асистент или наставник не саопшти другачије. Студенти који желе да добију објашњење у вези са оценом писменог дела испита или да поново виде свој писмени рад, потребно је да се обрате предметном наставнику, или асистенту у време редовних консултација са студентима. То право треба искористити до термина одржавања усменог дела испита. Ако студент није искористио то право до почетка усменог дела испита сматраће се није хтео да коридити то право. Термини консултација наставника су: понедељак 10-12 h, и петак 10-12 h у кабинету 221. Консултације асистента су у кабинету 307: понедељком 10-12 h, средом 10-12 h.

Термин за полагање усменог дела испита по правилу први понедељак после писменог дела испита, а са почетком у 8,00 часова, ако студенти не изразе другачији захтев и договоре се са предметним наставником. На усменом делу испита није дозвољено коришћење литературе нити прибележака. За успешнију припрему испита из Механике III – Динамике пожељно је да су студенти положили испите из претходне године.

Резултате писменог дела испита, текстове испитних задатака и огледне примере решених испитних задатака из претходних испитних рокова, студенти могу наћи на **WEB** презентацији предмета Механика III – Динамика, а на адреси www.masfak.ni.ac.yu или интернет страници <http://www.hm.co.yu/mehanika>.